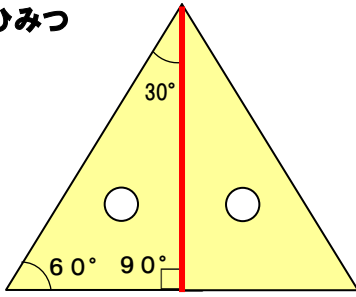
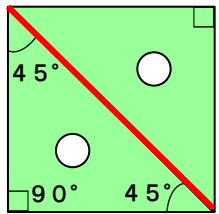
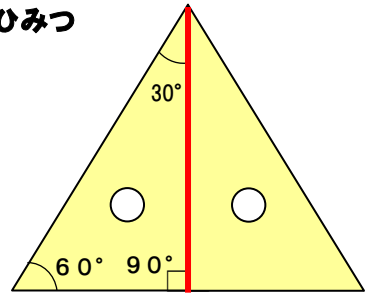
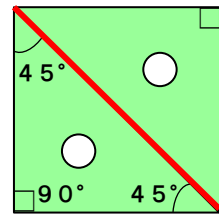


三角じょうぎの ひみつ



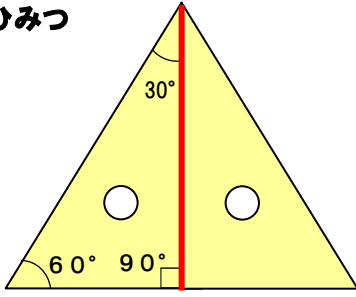
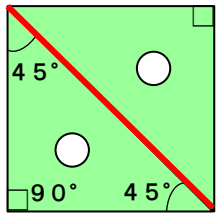
その①.2枚合わせたら、正方形になる。その②.2枚合わせたら、正三角形になる。その③.じょうぎの赤い色の辺の長さは同じ長さだ。

三角じょうぎの ひみつ



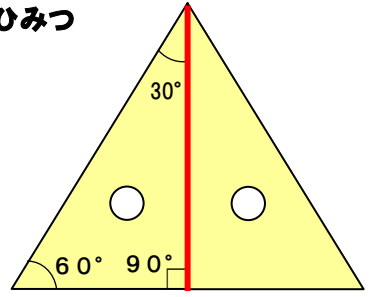
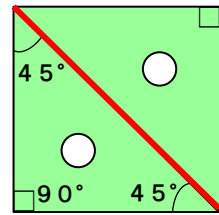
その①.2枚合わせたら、正方形になる。その②.2枚合わせたら、正三角形になる。その③.じょうぎの赤い色の辺の長さは同じ長さだ。

三角じょうぎの ひみつ



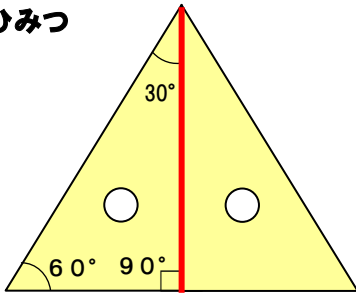
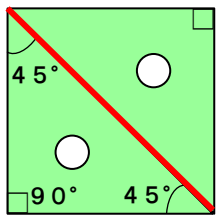
その①.2枚合わせたら、正方形になる。その②.2枚合わせたら、正三角形になる。その③.じょうぎの赤い色の辺の長さは同じ長さだ。

三角じょうぎの ひみつ



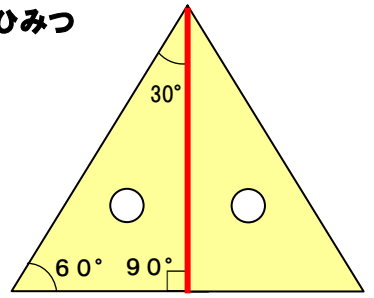
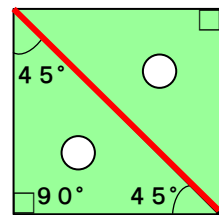
その①.2枚合わせたら、正方形になる。その②.2枚合わせたら、正三角形になる。その③.じょうぎの赤い色の辺の長さは同じ長さだ。

三角じょうぎの ひみつ



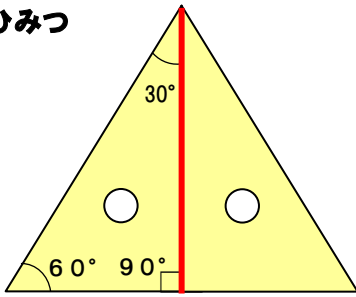
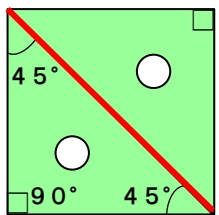
その①.2枚合わせたら、正方形になる。その②.2枚合わせたら、正三角形になる。その③.じょうぎの赤い色の辺の長さは同じ長さだ。

三角じょうぎの ひみつ



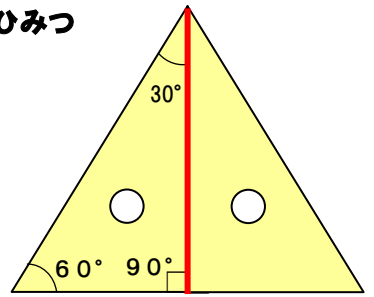
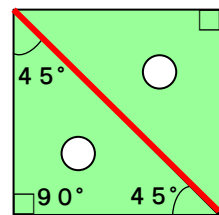
その①.2枚合わせたら、正方形になる。その②.2枚合わせたら、正三角形になる。その③.じょうぎの赤い色の辺の長さは同じ長さだ。

三角じょうぎの ひみつ



その①.2枚合わせたら、正方形になる。その②.2枚合わせたら、正三角形になる。その③.じょうぎの赤い色の辺の長さは同じ長さだ。

三角じょうぎの ひみつ



その①.2枚合わせたら、正方形になる。その②.2枚合わせたら、正三角形になる。その③.じょうぎの赤い色の辺の長さは同じ長さだ。