




すうじあて筆算⑥

名前

※点線のワクの中にある数字のカードを、もとの問題になるようにあてはめます。

①




$$4 \square \square 3$$

$$- 1 5 8 7$$

$$\hline \square \square \square \square$$

②




$$\square \square \square \square$$

$$- 5 8 8 9$$

$$3 \square \square 3$$

③



$$6 \square \square \square$$

$$- \square \square 6 \square$$


$$2 6 3 9$$




<h1>すうじあて筆算⑥</h1>	名前	
-------------------	----	--

※点線のワクの中にある数字のカードを、もとの問題になるようにあてはめます。


①



②



③



$$\begin{array}{r}
 4 \quad \boxed{7} \quad \boxed{1} \quad 3 \\
 - 1 \quad 5 \quad 8 \quad 7 \\
 \hline
 \boxed{3} \quad \boxed{1} \quad \boxed{2} \quad \boxed{6}
 \end{array}$$

$$\begin{array}{r}
 \boxed{9} \quad \boxed{0} \quad \boxed{6} \quad \boxed{2} \\
 - 5 \quad 8 \quad 8 \quad 9 \\
 \hline
 3 \quad \boxed{1} \quad \boxed{7} \quad 3
 \end{array}$$

$$\begin{array}{r}
 6 \quad \boxed{1} \quad \boxed{0} \quad 8 \\
 - \boxed{3} \quad \boxed{4} \quad 6 \quad \boxed{9} \\
 \hline
 2 \quad 6 \quad 3 \quad 9
 \end{array}$$